

## 8) Place de l'église

La reproduction d'une carte postale ancienne représente l'église dans les années 1900. Trouvez 3 éléments dans les bâtiments ou dans le paysage qui ont changé.

1 : ..... 2 : ..... 3 : .....

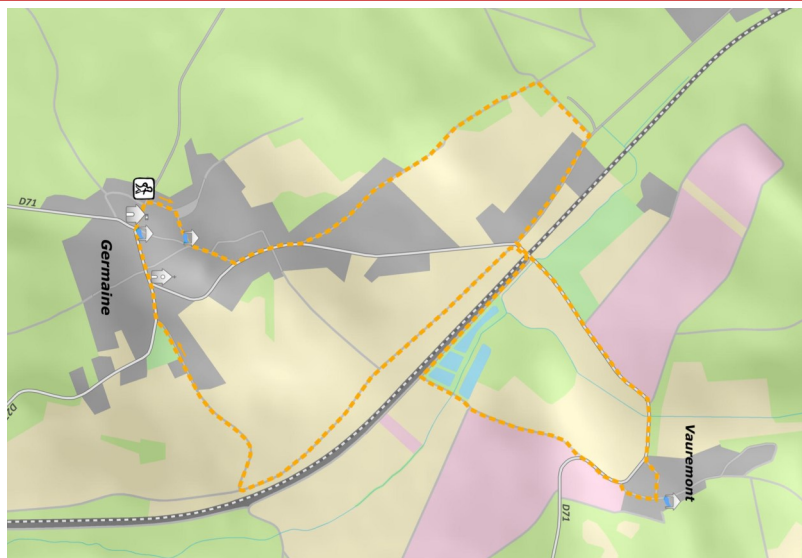
## 9) La mairie



Cherchez devant la mairie une plaque comme celle-ci : Elle indique l'altitude à laquelle nous nous trouvons. Quelle est cette altitude ?

Vous souhaitez participer au tirage au sort pour gagner un panier garni ? Déposez ce dépliant une fois complété à la boutique du Cerf à 3 pattes ou dans sa boîte aux lettres. Votre adresse mail pour vous prévenir si vous gagnez :

Tirage en septembre. Lot à venir chercher à la boutique.



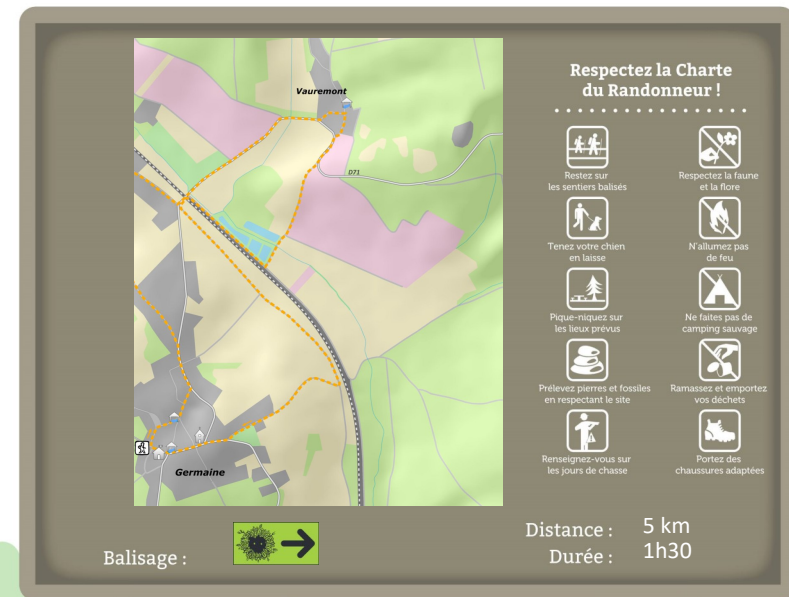
# Germaine

## La balade de la fée Lucie

Bienvenue à Germaine,

un ancien village de bûcherons au cœur de la montagne de Reims.

Faites le tour de la clairière dans laquelle le village s'est établi. Longez la forêt, découvrez le hameau de Vauremont et les parcelles de vignes, passez près des lavoirs... Un quizz, vous est proposé pour vous accompagner durant la balade.



Commune de GERMAINE



Départ au  
**Cerf à 3 pattes**  
 Rue du pré Michaux  
 51160 Germaine  
 À 12km d'Epernay  
 Et 25 km de Reims

**Balade ludique de la fée Lucie**

Partez à la découverte du village de Germaine. Tout au long de cette balade vous devrez répondre aux questions. Vous pourrez valider vos réponses au « Cerf à 3 pattes » lors des heures d'ouverture.

**1) Le lavoir de Thérèse**

Ce lavoir se trouve rue du Moulin. Si ce lavoir pouvait nous parler, il nous raconterait toute la vie du village et de ses environs depuis plusieurs générations. Mais savez-vous qui était Thérèse ?

- Une dame à l'origine de la source qui alimente ce lavoir.
- La dernière utilisatrice de ce lavoir.
- Une habitante de Germaine qui a fait un don pour construire ce lavoir.

**2) Les vignes**

A Germaine, quelques parcelles sont plantées de vignes en appellation Champagne. Certaines appartiennent à des Maisons de Champagne très connues dont vous lirez les noms en chemin. Ecrivez ces noms :

.....

Les raisins récoltés serviront à faire du Champagne. Quel poids de raisin sera nécessaire pour faire une bouteille de 75cl de Champagne ?

- 850gr
- 1kg200.
- 2kg100

**3) Le hameau de Vaurémont**

Le hameau de Vaurémont comprend 2 rues. Comment s'appellent-elles ?  
 .....

**4) La Croix Verte**

La reproduction d'une carte postale ancienne montre le hameau de Vaurémont vers 1900. Trouvez 3 éléments dans les bâtiments ou le paysage qui n'ont pas changé.

1: ..... 2: ..... 3: .....

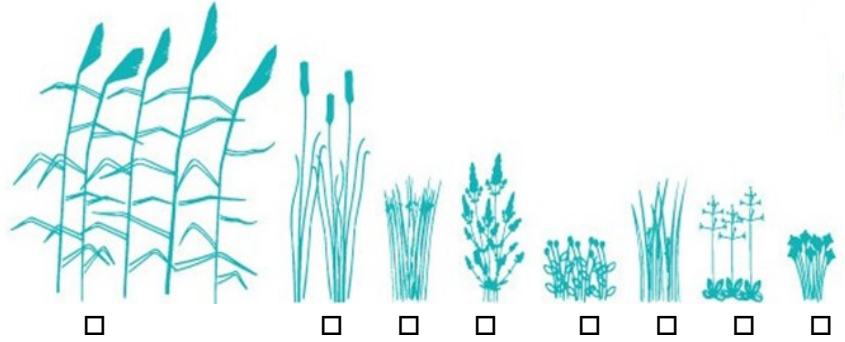
**5) Le lagunage**

Le lagunage est un procédé d'épuration des eaux usées par un lent écoulement de l'eau dans un ou plusieurs réservoirs peu profonds où prolifèrent des bactéries et autres organismes qui vivent au détriment des matières organiques et des sels minéraux contenus dans les eaux.

Au lagunage de Germaine, l'eau circule dans combien de bassins ?

- 2 bassins
- 3 bassins
- 4 bassins

Cochez les plantes aquatiques que vous voyez dans les bassins.



**6) Le cimetière**

Entrez à l'intérieur du cimetière. Que peut-on observer dans le mur de clôture ?

- Des statues médiévales
- Des pierres volcaniques
- Les traces d'une ancienne porte

Des maçons de la Creuse sont venus travailler à la construction du tunnel ferroviaire au 19<sup>ème</sup> siècle. Certains sont morts lors d'un accident. (Tombe située dans la partie droite du cimetière en entrant)

En quelle année a eu lieu cet accident ? .....

**7) Une maison 36 Grande rue (située au côté sud de l'église)**

Cette maison possède un porche imposant. Dessinez le. ?